

1. Замок для короля Артура

Король Артур завоевал новые территории. Для защиты от врагов и освоения территории нужно построить замок. Король пообещал щедрое вознаграждение тому, кто выберет лучшее место для его строительства. Для обеспечения жизнедеятельности замка в нем, конечно, должен быть колодец. Технологии этого времени позволяют вырыть колодец не глубже 70 метров. Используя картосхему залегания грунтовых вод (рисунок 2) и карту высот местности (рисунок 1), определи, где лучше всего построить замок для короля Артура. Не забывай о стратегическом положении, которое должен занимать замок.

Обозначь на картосхеме (лист ответов) место предполагаемого строения.




Рисунок 1.

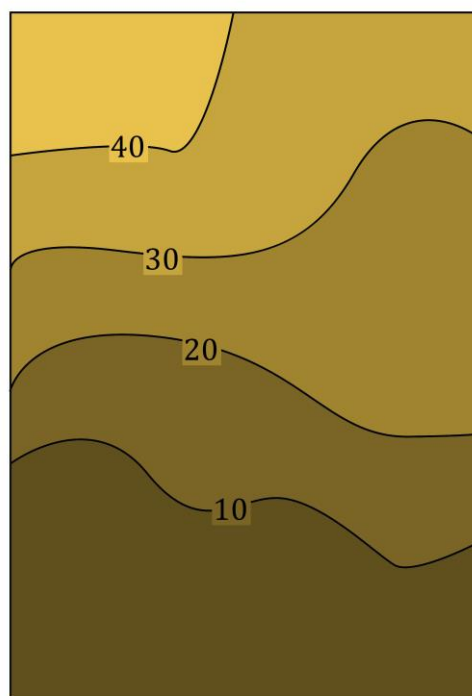


Рисунок 2.

2. Регионы мира

Определите, в каких странах находятся административные единицы, к какой языковой группе относится преобладающий язык, на котором говорят их жители. Ответы занесите в таблицу в листе ответов.

3. Продолжение логического ряда

Определите признак, по которому сгруппирован каждый логический ряд. Продолжите логические ряды, приведя по каждому из них 1 пример. Запишите признак и пример в таблицу.

4. Уровень специализации стран на производстве сельскохозяйственной культуры

Дано:

Сельскохозяйственную культуру «А» производят страны «Х», «У» и «Z»;

Население страны Z в 2 раза больше страны У;

Посевная площадь (га) сельскохозяйственной культуры А в стране X в два раза меньше, чем в стране У;

Урожай страны Z составил 16 млн т;

Посевная площадь страны У в 2 раза меньше чем в стране Z;

Урожайность в стране X в 2 раза больше страны Z;

Население в стране X в 2 раза больше страны Z;

Посевная площадь страны Z столько же млн га сколько население (млн чел.) в стране X;
Урожайность в стране Y на 10 ц/га меньше страны X.


Вопрос: сколько тонн на душу населения производят в всех трех странах, если население страны Y составляет 4 млн человек.

5. Дешифрирование аэрофотоснимков

Рассмотрите представленные ниже снимки различных антропогенных объектов, процессов или элементов процесса природопользования. Определите их, результаты укажите в листе ответов.



1.



2.



3.




4.



5.



6.



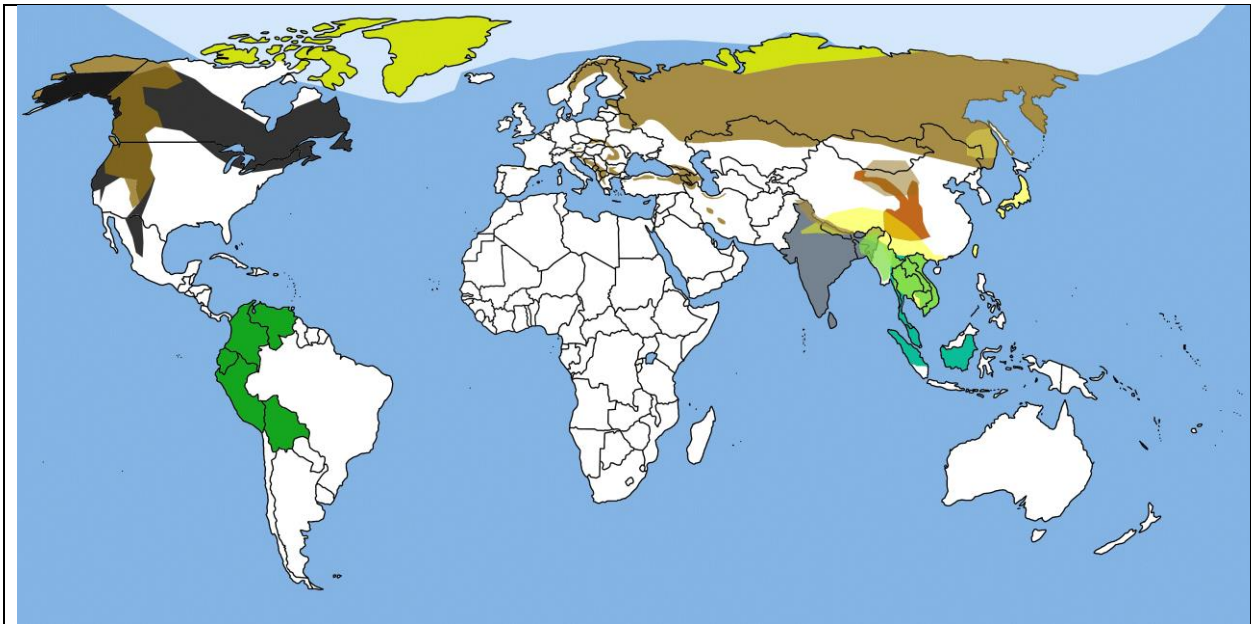
7.



8.

6. Немые карты

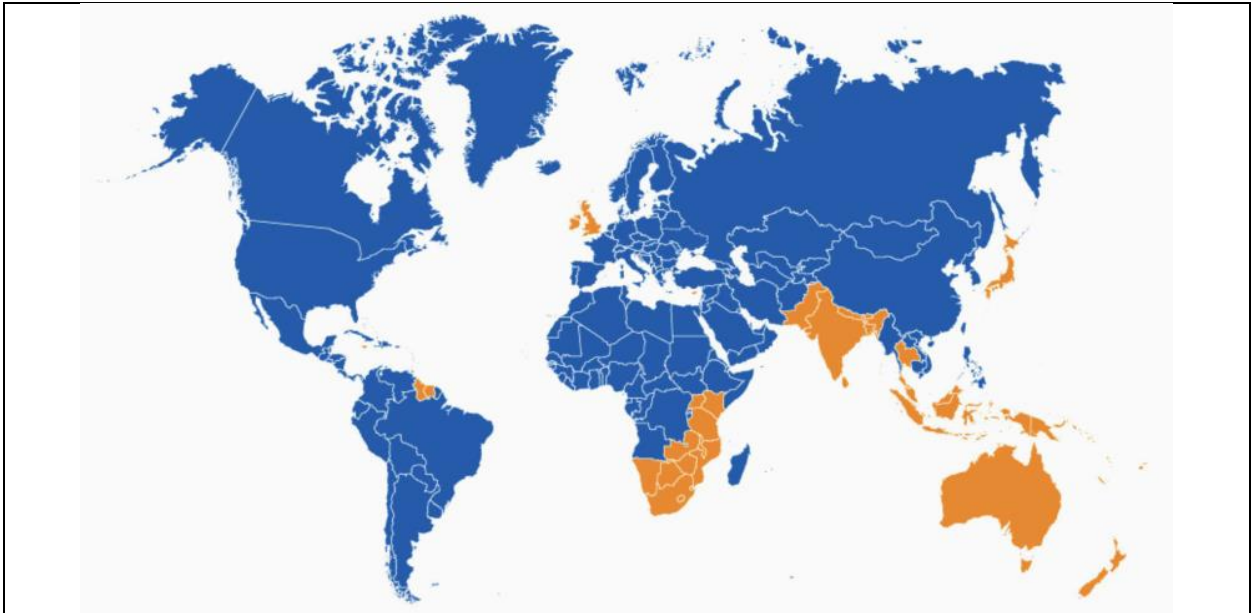
Определите названия карт, представленных ниже, впишите их в таблицу листа ответов.



1.



2.



3.



4.

7. Что лишнее?

В каждом ряду присутствует лишнее изображение. Его номер занесите в таблицу листа ответов и обоснуйте свой выбор.


			
1.1	1.2	1.3	1.4
			
Габон			Кения
2.1	2.2	2.3	2.4
			
3.1	3.2	3.3	3.4
			
4.1	4.2	4.3	4.4
			
Кингисепп	Гусев	Светлогорск	Правдинск
5.1	5.2	5.3	5.4

8. Постеры Adidas.

Компания Adidas выпустила серию кроссовок, выполненных в стилистике различных городов. Сами кроссовки достаточно тяжело отнести к какому-то городу. Но к кроссовкам прилагаются постеры.

Задача: узнайте 10 городов по постерам, составленным из фирменных полосок Adidas. Определите город. Результаты внесите в лист ответов.









9. Эмодзи. Зашифрованные страны

В каждом горизонтальном ряду из трех эмодзи зашифровано название страны. Определите страны и запишите их в лист ответов.

1.			
2.			
3.			
4.			
5.			

6.	
7.	
8.	
9.	
10.	