



**ГЕРЦЕНОВСКАЯ ОЛИМПИАДА ШКОЛЬНИКОВ  
ПО ГЕОГРАФИИ – 2018**

**ЗАКЛЮЧИТЕЛЬНЫЙ ЭТАП**

**ВАРИАНТ 1**

<b>1</b>	<b>2</b>	<b>3</b>	<b>4</b>	<b>5</b>
<b>6</b>	<b>7</b>	<b>8</b>	<b>9</b>	<b>10</b>
<b>11</b>	<b>12</b>			

**Итого баллов** \_\_\_\_\_

**Персональные данные участника**

(заполняется участником разборчиво, печатными буквами)

**Фамилия** \_\_\_\_\_ **Имя** \_\_\_\_\_ **Отчество** \_\_\_\_\_

**Дата рождения (в формате ДД.ММ.ГГГГ)** \_\_\_\_\_

## 1. Геологический разрез

На рисунке 1 представлен фрагмент геологической карты древней платформы. Проанализируйте особенности геологического строения территории, вспомните последовательность геологических периодов и выполните карандашом на заготовленном шаблоне (рисунок 2) геологический разрез по линии А – В.

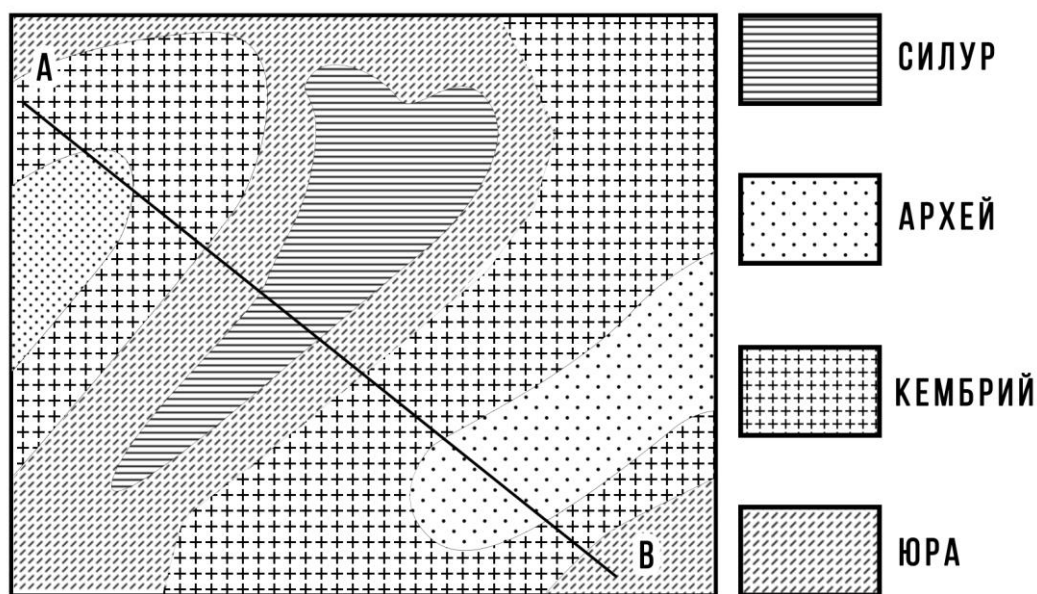


Рисунок 1.




Рисунок 2.

## 2. Изогипсы

На рисунке 3 изображены абсолютные высоты. Вам предлагается, используя метод интерполяции, построить на этом же рисунке изогипсы территории.

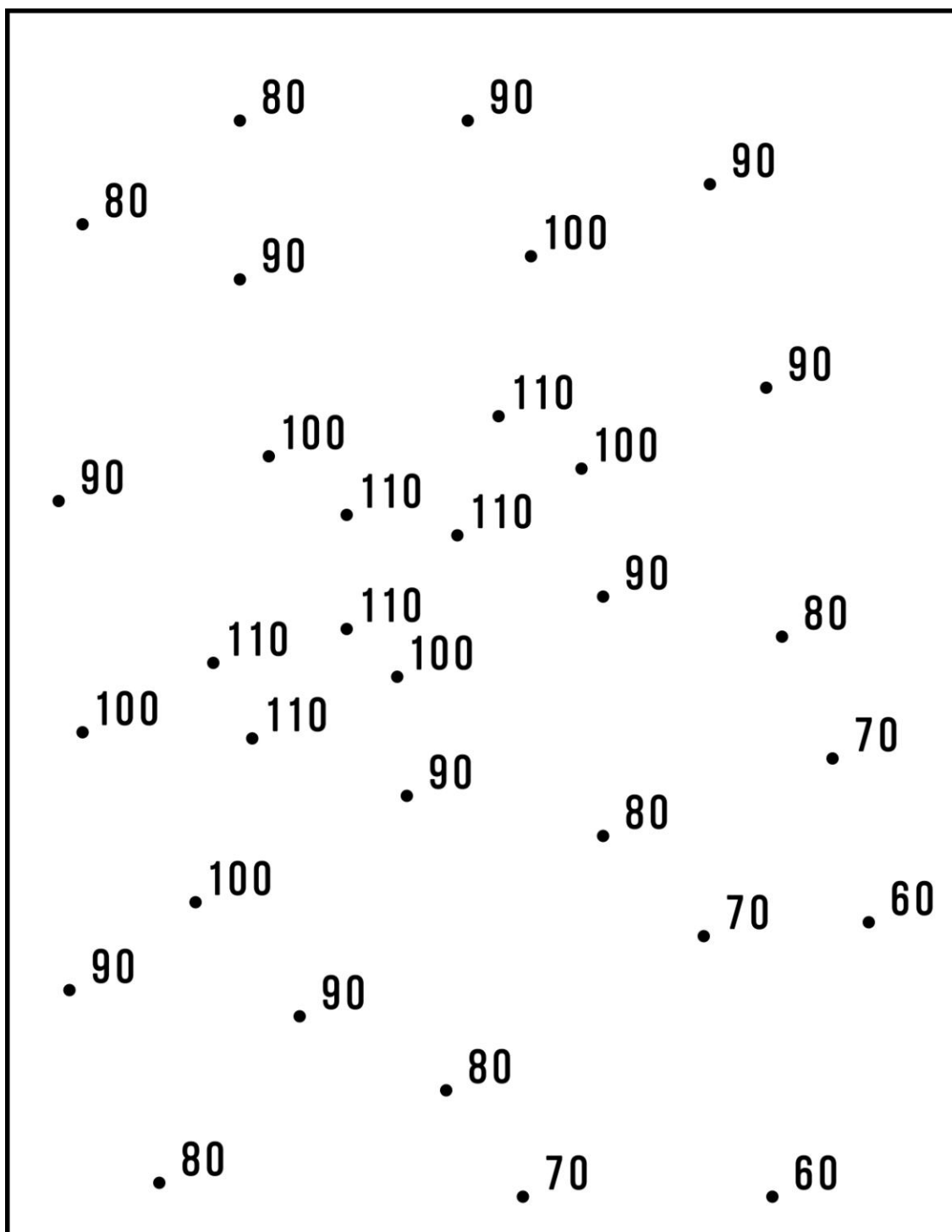








Рисунок 3.

### 3. Дешифрирование аэрофотоснимков

Рассмотрите представленные ниже снимки различных антропогенных объектов. Определите эти объекты, ответы напишите под каждым снимком.







#### 4. Регионы мира

Определите, в каких странах находятся административные единицы, к какой языковой группе относится преобладающий язык, на котором говорят их жители. Ответы занесите в таблицу 1.

Таблица 1

<b>Административная единица</b>	<b>Страна</b>	<b>Преобладающий язык</b>	<b>Языковая группа</b>
Сардиния			
Западно-Поморское воеводство			
Македония – Фракия			
Тюрингия			
Юта			
Арагон			
Юра			
Нижняя Калифорния			
Новый Южный Уэльс			
Ла-Пампа			

## 5. Топонимика

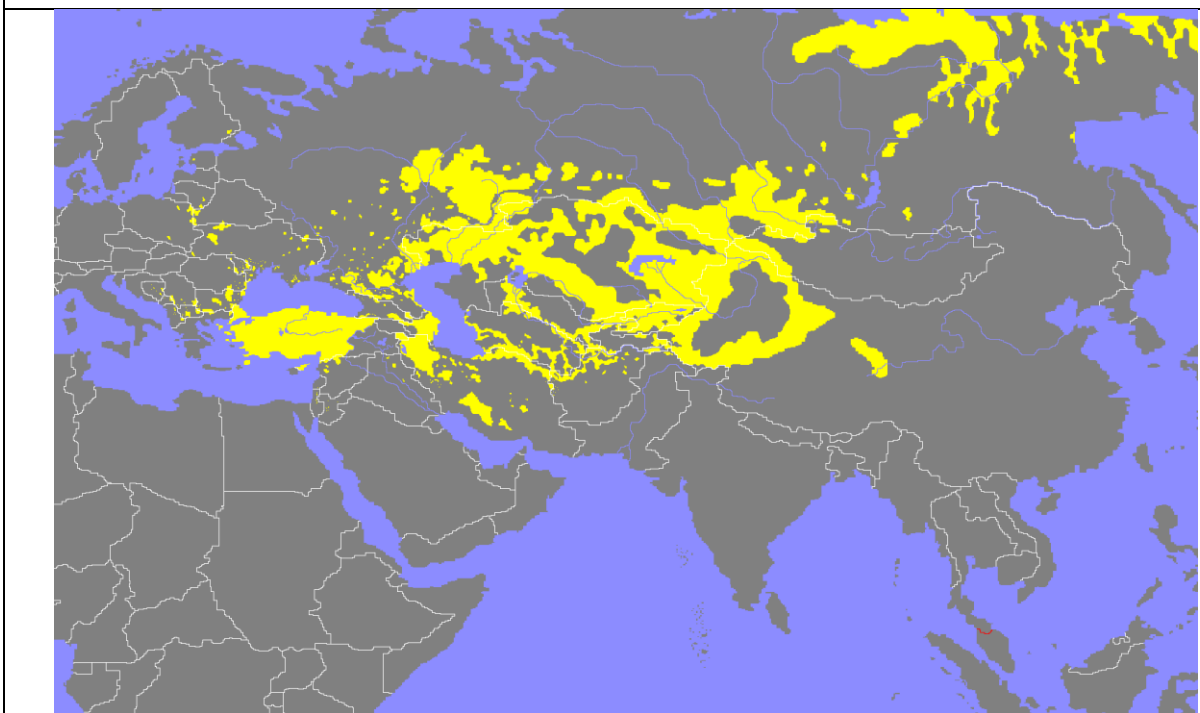
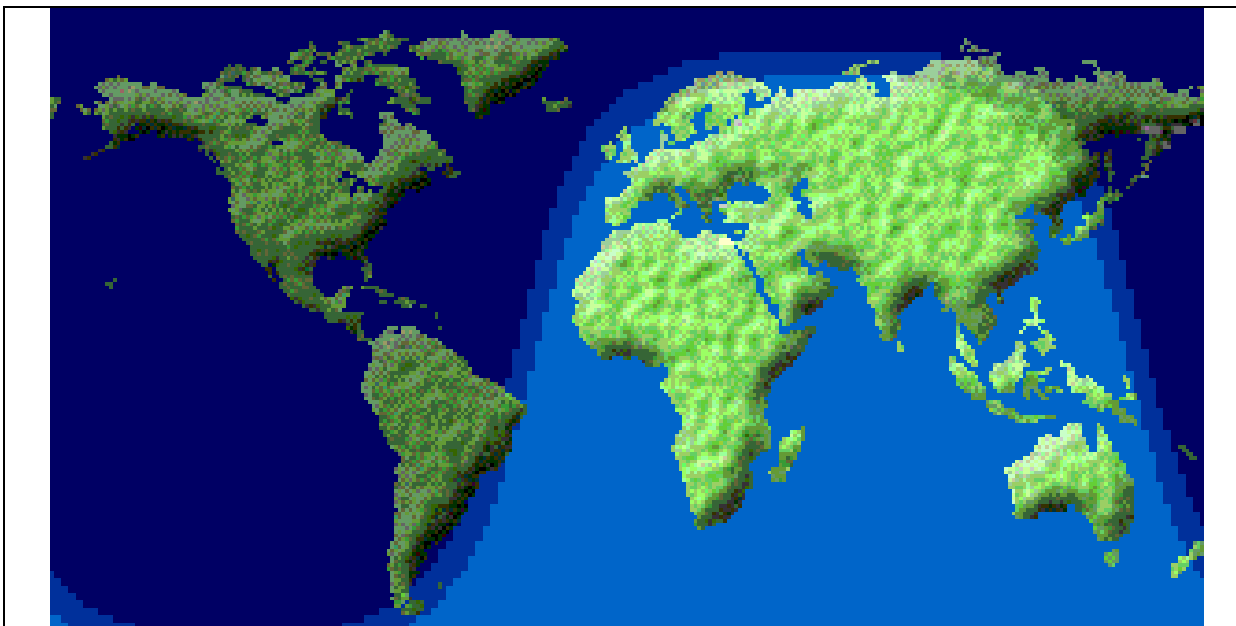
Приведите примеры переименования топонимов и заполните таблицу 2.

Таблица 2

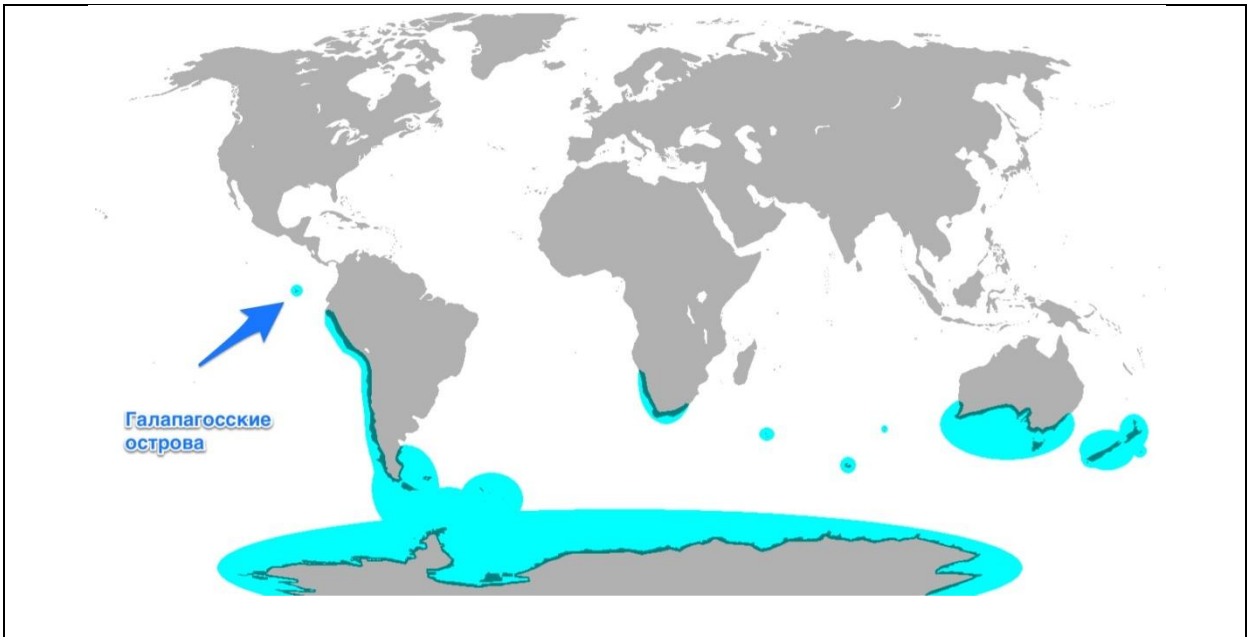
Регион / страна	Исторический период	Пример	Причина
Российская империя			
РСФСР			
СССР	20-40-е годы		
СССР	50-80-е годы		
Российская Федерация			
Зарубежная Европа			
Зарубежная Азия			

## 6. Немые карты


Определите названия карт, представленных ниже, впишите их.







**10 стран-лидеров производителей .....**



## **7. Авторская классификация**

Вам предлагается разработать собственный вариант классификации или типологии предложенных географических объектов, понятий и терминов (всех или частично). Определите критерии классификации или типологии и представьте Ваш вариант (ы) в виде таблицы или блок-схемы.

**Псков, Урал, Уральский федеральный округ, Сабетта, Северный поток – 2, северное сияние, овраг, Транссиб, вулкан, Стамбул, Болгария, туман, Кронштадт, Адлер, Эльзас, климатология, балка, плато, Свердловская область, Екатеринбург, Голубой поток, гало, БАМ.**

## 8. Признаки сходства и различия.

Определите наиболее значимые и оригинальные признаки сходства и различия (до 3-х) для каждой из предложенной пары географических объектов или терминов. Ответы занесите в таблицу 3.

Таблица 3.

Географические объекты	Признаки сходства	Признаки различия
Генуя, Марсель		
План, карта		
Эльбрус, Монблан		

Индонезия, Суринам		
Куршская коса, Байкал		
Баварский лес, Беловежская пуща		
Калмыки, буряты		

## 9. Специализация стран на выпуске сельскохозяйственной продукции

Проанализируйте статистические материалы из таблицы 4. Определите уровень специализации стран на производстве сельскохозяйственной продукции. Проранжируйте страны по уровню специализации, результаты (ранги) занесите в таблицу 5. Учитывайте, что 1 гектограмм = 0,0001 тонны.

Таблица 4

	Посевная площадь, га, 2015	Урожайность, гектограмм/га, 2015	Сбор, т, 2015
<i>Кукуруза</i>			
Китай	38119300		224630000
Венгрия		57871	6632783
Индия	8690000	25972	
Россия	2670059	49337	13173296
<i>Сахарная свёкла</i>			
Китай	136870	586834	8032000
Венгрия	15513		910915
Индия	-	-	-
Россия	1006513	387779	
<i>Чай</i>			
Китай		10630	2248999
Венгрия	-	-	-
Индия	566660		1233140
Россия	515	4769	246
<i>Пшеница</i>			
Китай	24141400	53926	
Венгрия	1029318	51796	5331426
Индия	31470000		86530000
Россия	25870340	23883	61785799

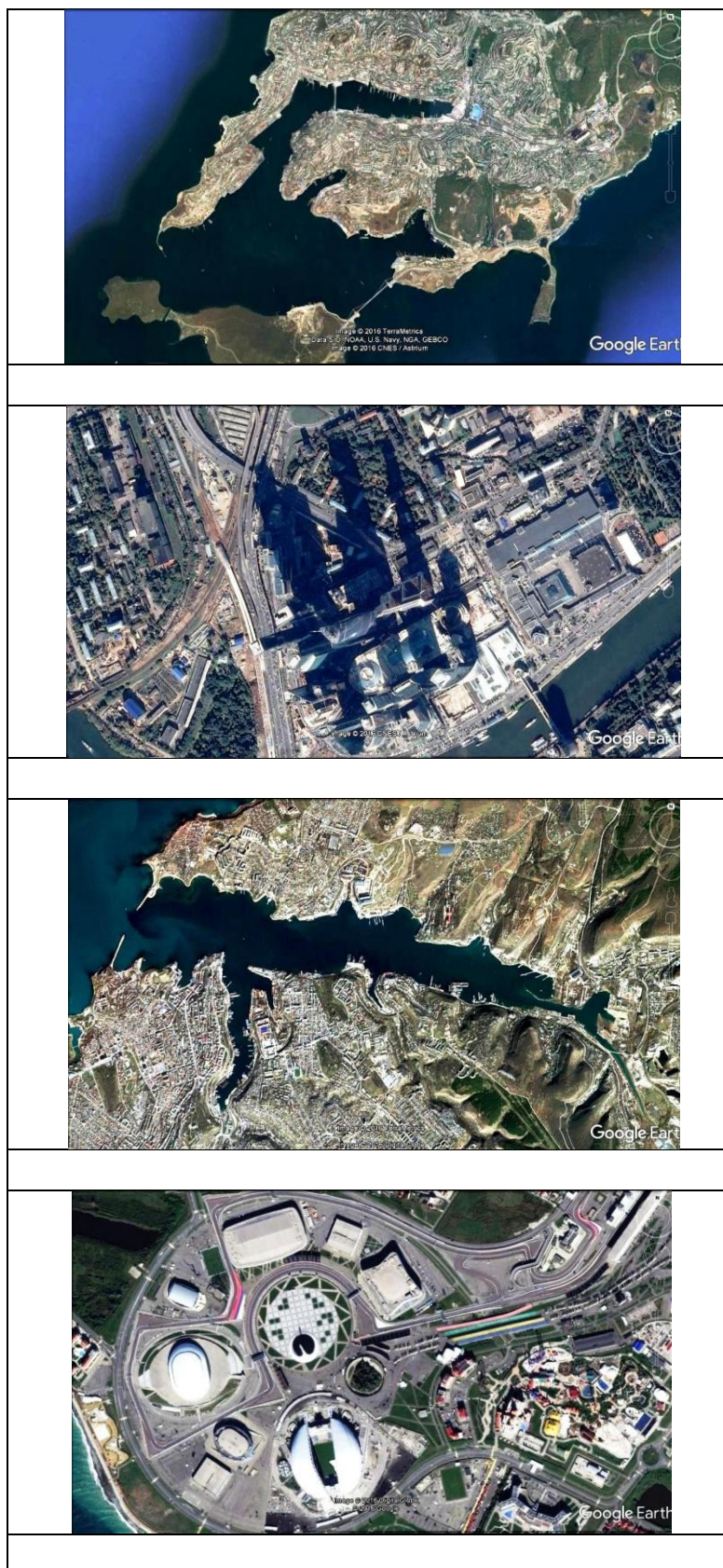
Таблица 5

	Кукуруза	Сахарная свёкла	Чай	Пшеница
<b>Китай</b>				
<b>Венгрия</b>				
<b>Индия</b>				
<b>Россия</b>				












## 10. Города России

Определите по снимкам города России, впишите их названия.



## 11. Достопримечательности России

Укажите достопримечательности, находящиеся на территории Российской Федерации. Подпишите названия или город.

		
<input type="checkbox"/>	<input type="checkbox"/>	<input type="checkbox"/>
		
<input type="checkbox"/>	<input type="checkbox"/>	<input type="checkbox"/>
		
<input type="checkbox"/>	<input type="checkbox"/>	<input type="checkbox"/>

## 12. Продолжение логического ряда.

Продолжите логические ряды:

1. Шотландия, Каталония, Венето, Квебек .....
2. Астана, Нейпидо, Ямусукро .....
3. Венгры, эстонцы, удмурты .....
4. Саппоро, Турин, Сочи, .....
5. Сеута и Мелилья, Нахичевань, Аляска .....
6. Бразилия, Гвинея-Бисау, Ангола .....
7. Эквадор, Бразилия, Габон .....
8. Сербия, Хорватия, Словения .....
9. Буркина-Фасо, Кабо-Верде, Кот-д'Ивуар .....
10. Бельгия, Норвегия, Испания .....